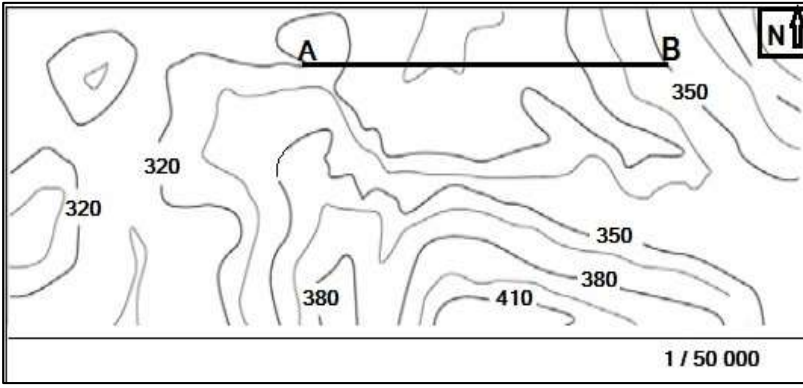


المجموعة A



▲ الوثيقة 1 :

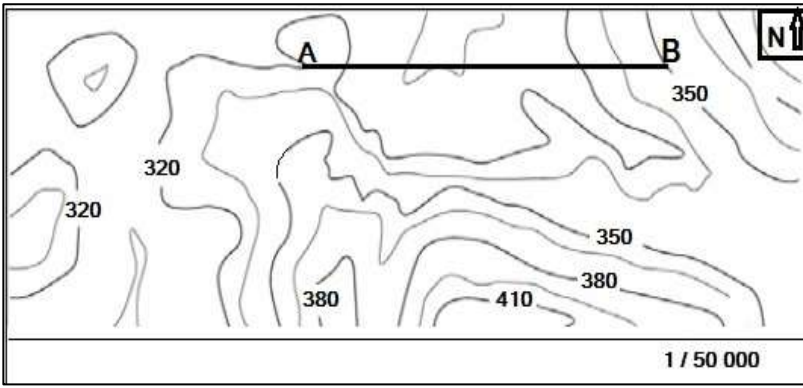
أثناء خرجة جيولوجية استعان التلاميذ بخريطة
طبوغرافية للموقع ، و تمثل الوثيقة 1 جزءا من
هذه الخريطة:

1- أوجد الارتفاع التقريبي أو المضبوط للنقطتين
A و B :
.....=B.....=A

2- أحسب ب km المسافة الحقيقية بين A و B .

.....
.....
.....

المجموعة A



▲ الوثيقة 1 :

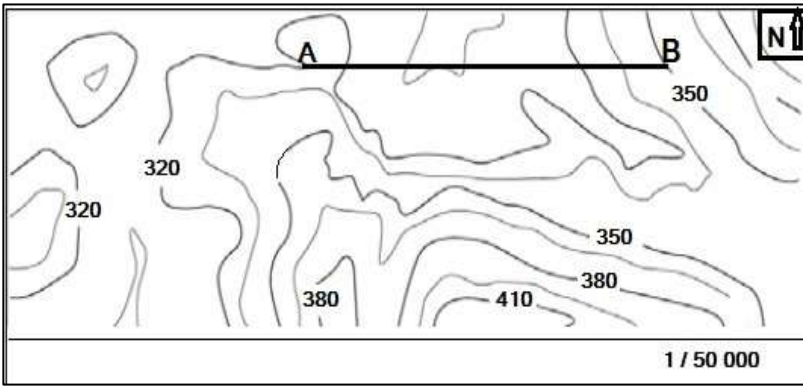
أثناء خرجة جيولوجية استعان التلاميذ بخريطة
طبوغرافية للموقع ، و تمثل الوثيقة 1 جزءا من
هذه الخريطة:

1- أوجد الارتفاع التقريبي أو المضبوط للنقطتين
A و B :
.....=B.....=A

2- أحسب ب km المسافة الحقيقية بين A و B .

.....
.....
.....

المجموعة A



▲ الوثيقة 1 :

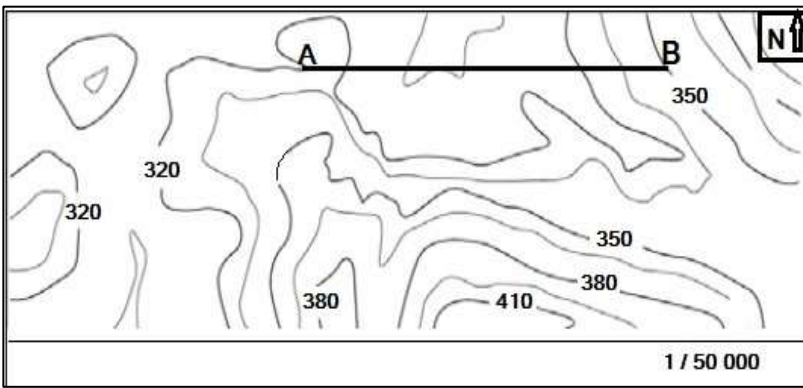
أثناء خرجة جيولوجية استعان التلاميذ بخريطة
طبوغرافية للموقع ، و تمثل الوثيقة 1 جزءا من
هذه الخريطة:

1- أوجد الارتفاع التقريبي أو المضبوط للنقطتين
A و B :
.....=B.....=A

2- أحسب ب km المسافة الحقيقية بين A و B .

.....
.....
.....

المجموعة A



▲ الوثيقة 1 :

أثناء خرجة جيولوجية استعان التلاميذ بخريطة
طبوغرافية للموقع ، و تمثل الوثيقة 1 جزءا من
هذه الخريطة:

1- أوجد الارتفاع التقريبي أو المضبوط للنقطتين
A و B :
.....=B.....=A

2- أحسب ب km المسافة الحقيقية بين A و B .

.....
.....
.....