

217	070	067	700
872	417	175	079
107	007	740	572
075	587	671	704
017	970	479	047
374	760	979	807
207	570	170	307

213	030	063	300
832	413	135	039
103	003	340	532
035	583	631	304
083	930	739	043
734	360	939	803
203	530	130	203

<b>Milliards</b>	<b>Millions</b>	<b>Mille</b>	<b>Unités simples</b>

<b>Milliards</b>	<b>Millions</b>	<b>Mille</b>	<b>Unités simples</b>

<b>Milliards</b>	<b>Millions</b>	<b>Mille</b>	<b>Unités simples</b>

<b>Milliards</b>	<b>Millions</b>	<b>Mille</b>	<b>Unités simples</b>

<b>Milliards</b>	<b>Millions</b>	<b>Mille</b>	<b>Unités simples</b>

<b>Milliards</b>	<b>Millions</b>	<b>Mille</b>	<b>Unités simples</b>

Choisis 3 cartes.  
Ecris un nombre  
de 9 chiffres.  
Ecris ce nombre  
en lettres.

Choisis 3  
cartes.  
Utilise-les pour  
écrire le plus  
petit nombre à  
9 chiffres  
possible.

Choisis 3 cartes.  
Ecris un nombre  
inférieur à  
375 000 000.  
Si tu ne peux  
pas, échange 2  
cartes.

Choisis 2 cartes.  
Ecris un nombre  
de 6 chiffres.  
Ecris ce nombre  
en lettres.

Choisis 3 cartes.  
Ecris un nombre  
de 9 chiffres.  
Donne la valeur  
de chaque  
chiffre 7 de ce  
nombre.

Choisis 4  
cartes.  
Utilise-les pour  
écrire le plus  
grand nombre  
à 12 chiffres  
possible.



Choisis 4 cartes.  
Ecris un nombre  
compris entre 150  
milliards et 375  
milliards. Si tu ne  
peux pas,  
échange 2 cartes.

Choisis 2 cartes.  
Ecris un nombre  
de 6 chiffres.  
Puis écris-en  
une  
décomposition.

Choisis 3 cartes.  
Ecris un nombre  
supérieur à  
150 000 000.  
Si tu ne peux  
pas, échange 2  
cartes.

Choisis 4 cartes.  
Ecris un nombre  
de 12 chiffres.  
Ecris ce nombre  
en lettres.

Choisis 4 cartes.  
Ecris un nombre  
de 12 chiffres.  
Donne la valeur  
de chaque  
chiffre 7 de ce  
nombre.

Choisis 4  
cartes.  
Utilise-les pour  
écrire le plus  
petit nombre à  
12 chiffres  
possible.

Choisis 2 cartes.  
Ecris un nombre  
compris entre 150  
mille et 420 mille.  
Si tu ne peux pas,  
échange 1 carte.

Choisis 2 cartes.  
Ecris un nombre  
de 6 chiffres.  
Puis écris son  
nombre de  
centaines.

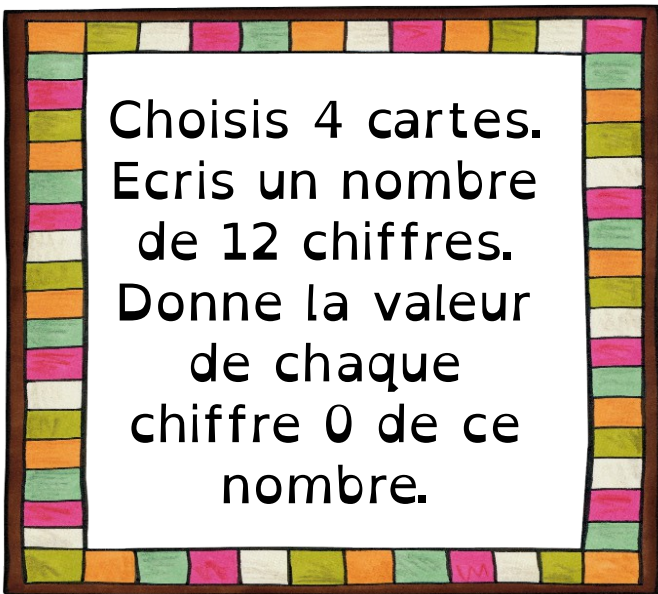
Choisis 2 cartes.  
Ecris un nombre  
de 6 chiffres.  
Puis écris son  
nombre de  
dizaines.

Choisis 3 cartes.  
Ecris un nombre  
de 9 chiffres.  
Puis écris son  
nombre de  
centaines.

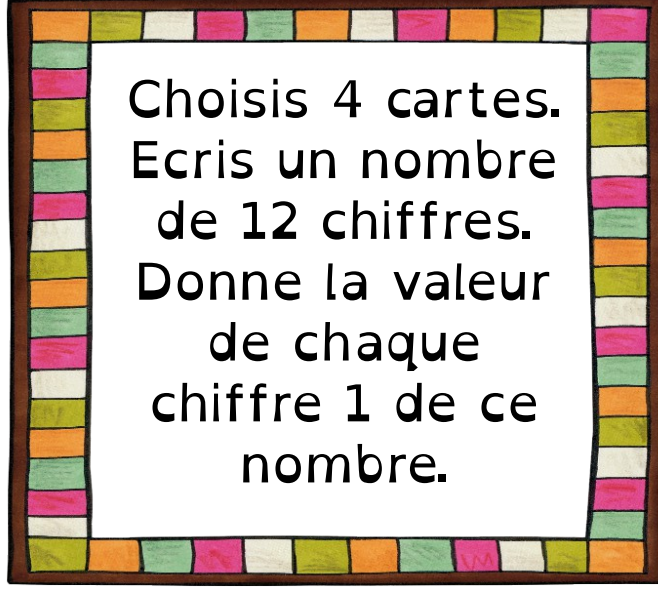
Choisis 3 cartes.  
Ecris un nombre  
de 9 chiffres.  
Puis écris son  
nombre de  
dizaines de mille.

Choisis 3 cartes.  
Ecris un nombre  
de 9 chiffres.  
Puis écris son  
nombre de  
millions.

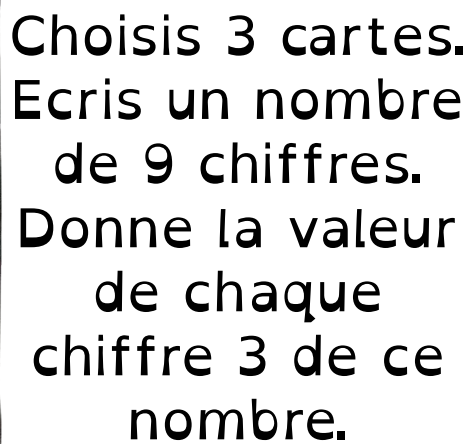




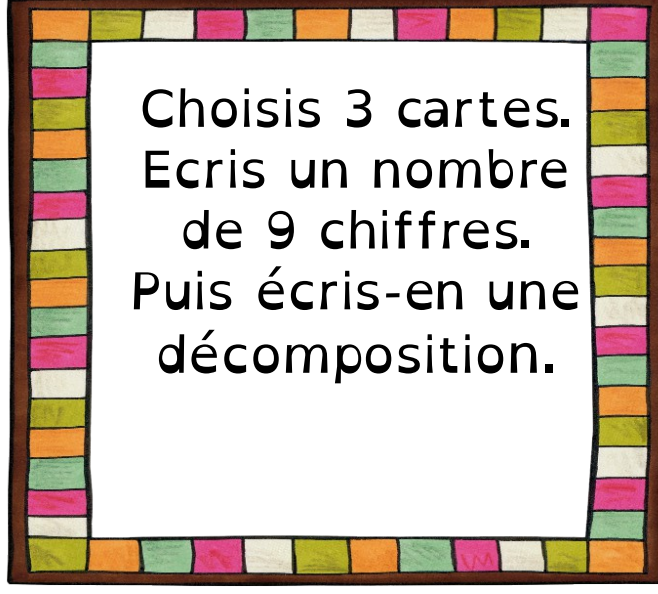
Choisis 4 cartes.  
Ecris un nombre  
de 12 chiffres.  
Donne la valeur  
de chaque  
chiffre 0 de ce  
nombre.



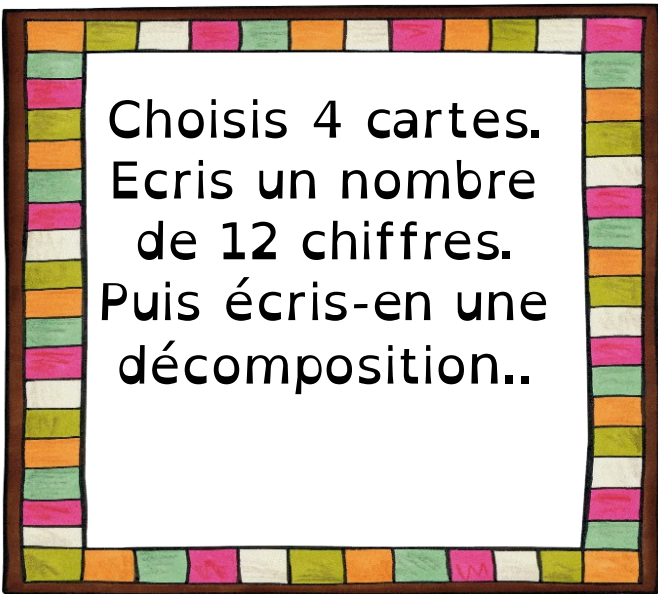
Choisis 4 cartes.  
Ecris un nombre  
de 12 chiffres.  
Donne la valeur  
de chaque  
chiffre 1 de ce  
nombre.



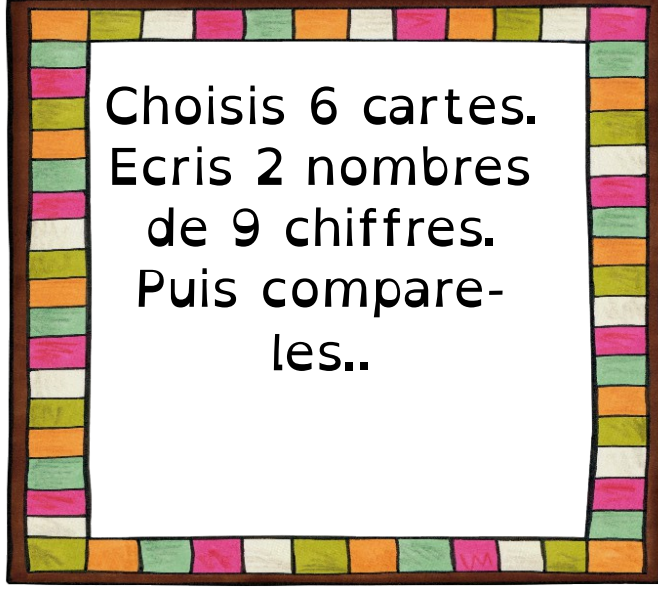
Choisis 3 cartes.  
Ecris un nombre  
de 9 chiffres.  
Donne la valeur  
de chaque  
chiffre 3 de ce  
nombre.



Choisis 3 cartes.  
Ecris un nombre  
de 9 chiffres.  
Puis écris-en une  
décomposition.



Choisis 4 cartes.  
Ecris un nombre  
de 12 chiffres.  
Puis écris-en une  
décomposition..



Choisis 6 cartes.  
Ecris 2 nombres  
de 9 chiffres.  
Puis compare-  
les..



### En binôme

Choisissez chacun 3 cartes.  
Ecrivez chacun le plus grand  
nombre à 9 chiffres  
possible.  
Comparez vos deux  
nombres.

### En binôme

Choisissez chacun 4 cartes.  
Ecrivez chacun le plus grand  
nombre à 12 chiffres  
possible.  
Comparez vos deux  
nombres.

### En binôme

Choisissez chacun 3 cartes.  
Ecrivez chacun le plus petit  
nombre à 9 chiffres  
possible.  
Comparez vos deux  
nombres.

### En binôme

Choisissez chacun 4 cartes.  
Ecrivez chacun le plus petit  
nombre à 12 chiffres  
possible.  
Comparez vos deux  
nombres.

### En binôme

Choisissez chacun 6 cartes.  
Ecrivez chacun 2 nombres à  
9 chiffres.

Rangez vos 4 nombres en  
ordre croissant .

### En binôme

Choisissez chacun 6 cartes.  
Ecrivez chacun 2 nombres à  
9 chiffres.

Rangez vos 4 nombres en  
ordre décroissant .



### En binôme

Choisissez chacun 4 cartes.  
Ecrivez chacun 2 nombres à  
6 chiffres.

Rangez vos 4 nombres en  
ordre croissant .



### En binôme

Choisissez chacun 4 cartes.  
Ecrivez chacun 2 nombres à  
6 chiffres.

Rangez vos 4 nombres en  
ordre décroissant .



### En binôme

Choisissez chacun 6 cartes.  
Ecrivez chacun 2 nombres à  
9 chiffres.

Rangez vos 4 nombres en  
ordre croissant .



### En binôme

Choisissez chacun 6 cartes.  
Ecrivez chacun 2 nombres à  
9 chiffres.

Rangez vos 4 nombres en  
ordre décroissant .

## En binôme

Choisissez chacun 3 cartes.  
Le premier écrit un nombre  
de 9 chiffres.

Le second doit ordonner ses  
3 cartes pour obtenir un  
nombre supérieur au  
premier



## En binôme

Choisissez chacun 3 cartes.  
Le premier écrit un nombre  
de 9 chiffres.

Le second doit ordonner ses  
3 cartes pour obtenir un  
nombre supérieur au  
premier



## En binôme

Choisissez chacun 4 cartes.  
Le premier écrit un nombre  
de 12 chiffres.

Le second doit ordonner ses  
4 cartes pour obtenir un  
nombre supérieur au  
premier



## En binôme

Choisissez chacun 4 cartes.  
Le premier écrit un nombre  
de 12 chiffres.

Le second doit ordonner ses  
4 cartes pour obtenir un  
nombre supérieur au  
premier