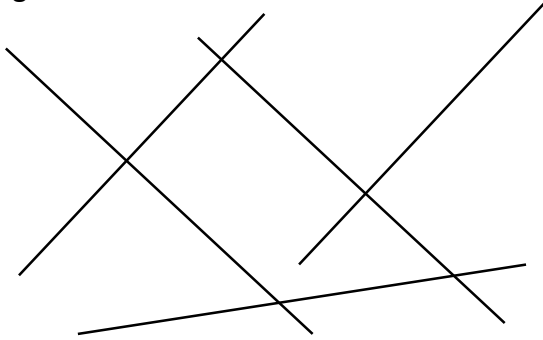


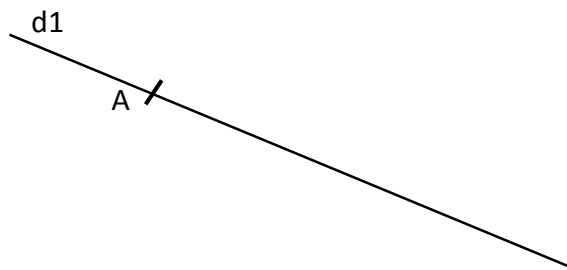
Exercice n°1 : Avec ton équerre, marque les angles droits avec un carré.



Exercice n°2 : Trace une droite d2 perpendiculaire à d1.



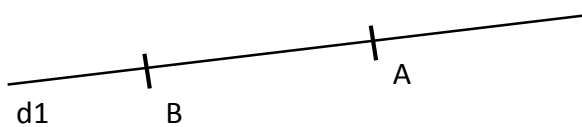
Exercice n°3 : Trace une droite d2 perpendiculaire à d1 passant par A.



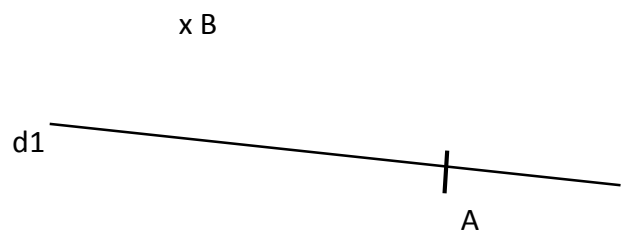
Exercice n°4 : Trace une droite d2 perpendiculaire à d1 passant par A.



Exercice n°5 : Trace une droite d2 perpendiculaire à d1 passant par A. Trace une droite d3 perpendiculaire à d2 passant par B.

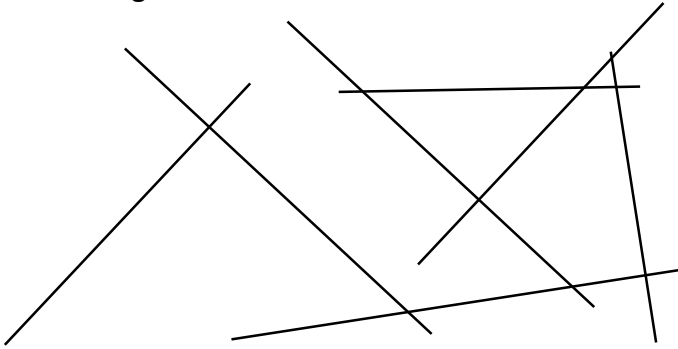


Exercice n°6 : Trace une droite d2 perpendiculaire à d1 passant par A. Trace une droite d3 perpendiculaire à d2 passant par B.



Exercice n°7 : Trace une droite d1. Place un point A sur cette droite. Trace une droite d2 perpendiculaire à d1 passant par A. Place un point B sur d2. Trace une droite d3 perpendiculaire à d2 passant par B.

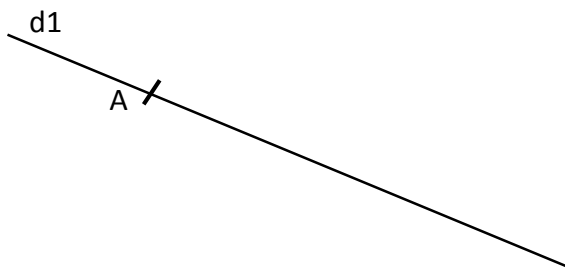
Exercice n°1 : Avec ton équerre, marque les angles droits avec un carré.



Exercice n°2 : Trace deux droite d2 et d3 perpendiculaires à d1.



Exercice n°3 : Trace une droite d2 perpendiculaire à d1 passant par A.



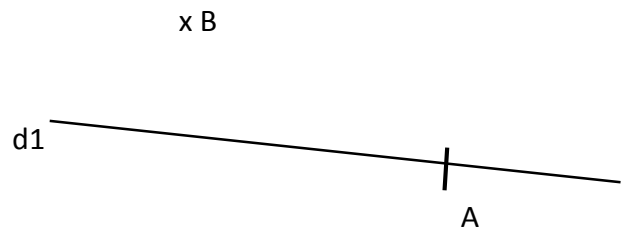
Exercice n°4 : Trace une droite d2 perpendiculaire à d1 passant par A.



Exercice n°5 : Trace une droite d2 perpendiculaire à d1 passant par A. Trace une droite d3 perpendiculaire à d2 passant par B.



Exercice n°6 : Trace une droite d2 perpendiculaire à d1 passant par A. Trace une droite d3 perpendiculaire à d2 passant par B.



Exercice n°7 : Trace une droite d1. Place un point A sur cette droite. Trace une droite d2 perpendiculaire à d1 passant par A. Place un point B sur d2. Trace une droite d3 perpendiculaire à d2 passant par B. place un point C sur d3. Trace une droite d4 perpendiculaire à d3 passant par C.