


# ATELIER PROBLÈMES

Maths au CE2 – Accès Editions


Période 1



# SEMAINE 1

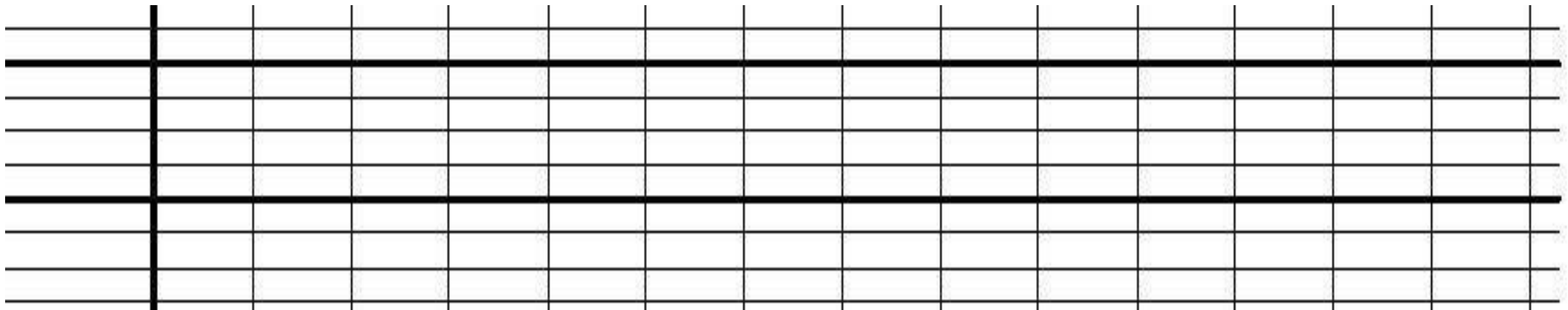
Maths au CE2 – Accès Editions

Période 1



En 5 minutes, une fleuriste a préparé 4 bouquets de 12 roses.

Combien de roses a-t-elle utilisées ?




?



La maman de Fatou a 34 ans.

Fatou lui a préparé un bouquet avec 12 roses rouges et 4 roses blanches.

**Combien y a-t-il de roses dans le bouquet ?**

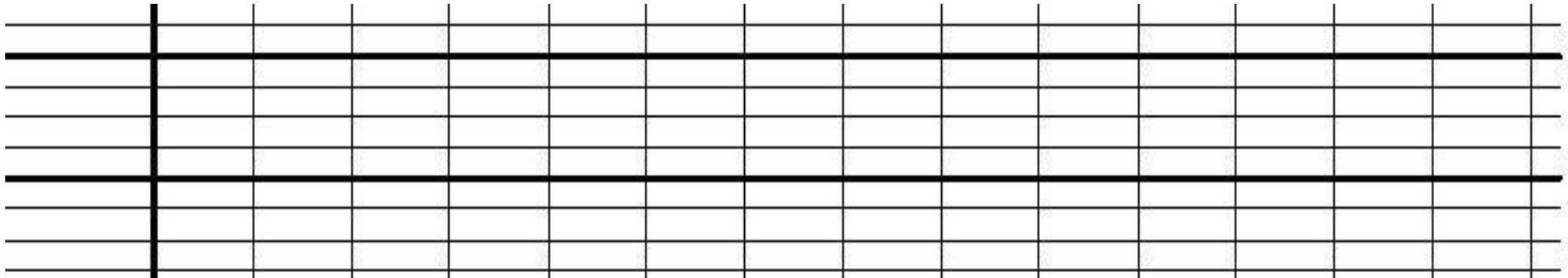


?




Problème 3

Lina avait 12 roses dans son jardin. Elle a coupé des roses pour faire un bouquet. Il reste maintenant 4 roses dans son jardin.  
**Combien de roses a-t-elle coupées ?**



...




+ Mini-fichier problèmes 1 à 4



# SEMAINE 2

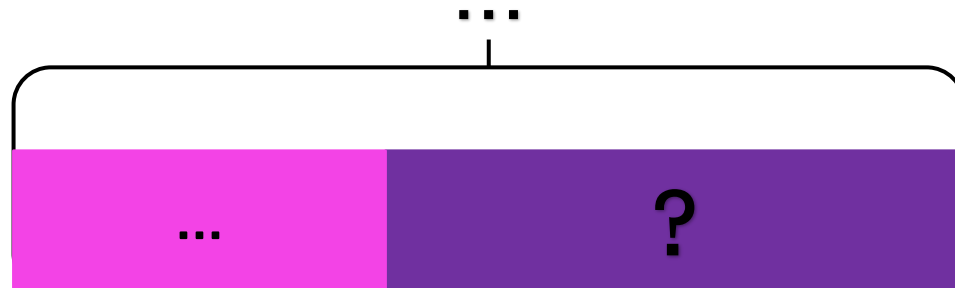
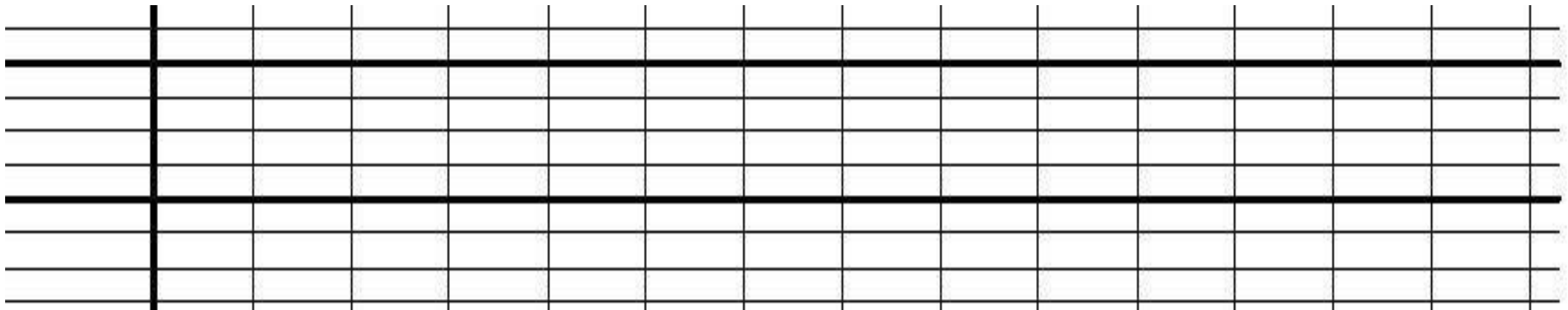
Maths au CE2 – Accès Editions

Période 1

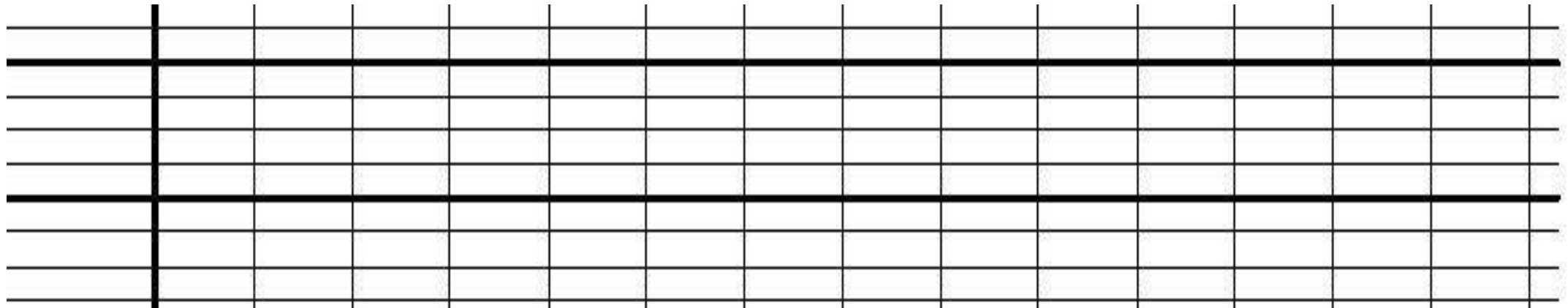


Dans mes coffres, j'ai 227 perles. J'en ai 110 dans mon coffre vert.

**Combien en ai-je dans mon coffre rouge ?**



Dans ma boîte, il y avait des images.  
 J'en ai distribué 56 et il m'en reste encore 217.  
**Combien y avait-il d'images dans ma boîte avant  
 que j'en distribue ?**

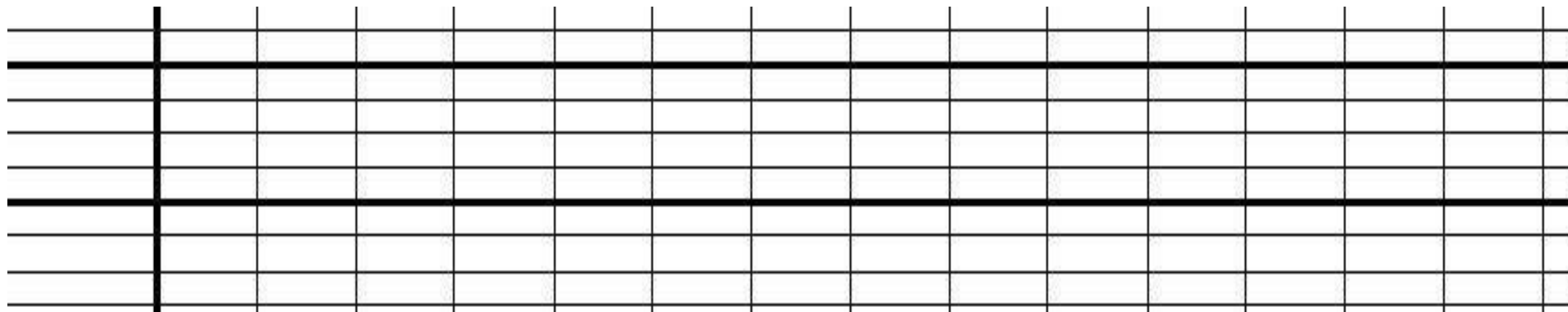


?

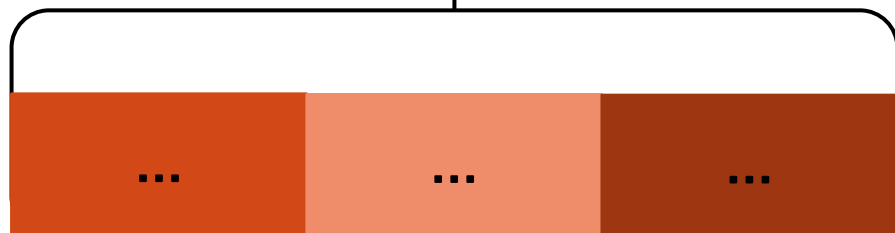




Dans la salle, il y a 3 rangées de 6 chaises.  
Combien de personnes peuvent s'asseoir ?



?




+ Mini-fichier  
problèmes  
5 à 8



# SEMAINE 3

Maths au CE2 – Accès Editions

Période 1



Ce matin, Lili a préparé 3 crêpes.  
Elle en a mangé 4. Il reste encore 5 crêpes pour son frère.

Que remarquez-vous ?



Modifie les nombres pour que cette histoire soit logique.

Ce matin, Lili a préparé ..... crêpes.

Elle en a mangé .... .

Il reste encore .... crêpes pour son frère.



Ecris les nombres qui manquent pour que cette histoire soit logique.

Ce matin, Léo a préparé 15 crêpes.

Il en a mangé ....


Il reste encore .... crêpes pour sa soeur.



# SEMAINE 4

Maths au CE2 – Accès Editions

Période 1



### Problème 1

Tom avait 26 billes.  
A la récréation, il en gagne 13.  
**Combien de billes a-t-il après la récréation ?**

### Problème 2

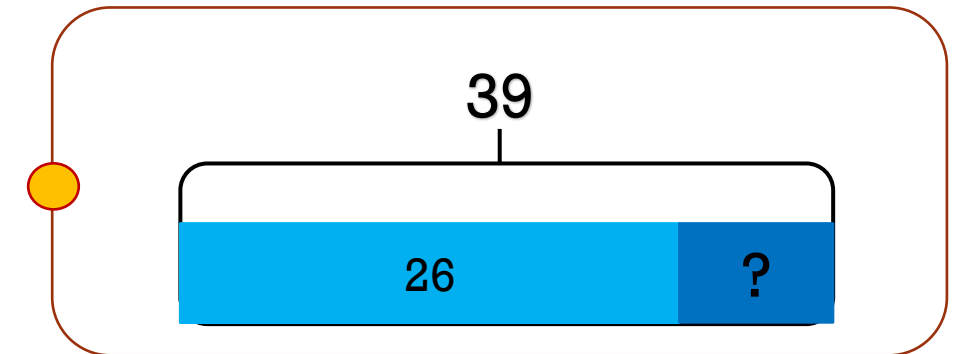
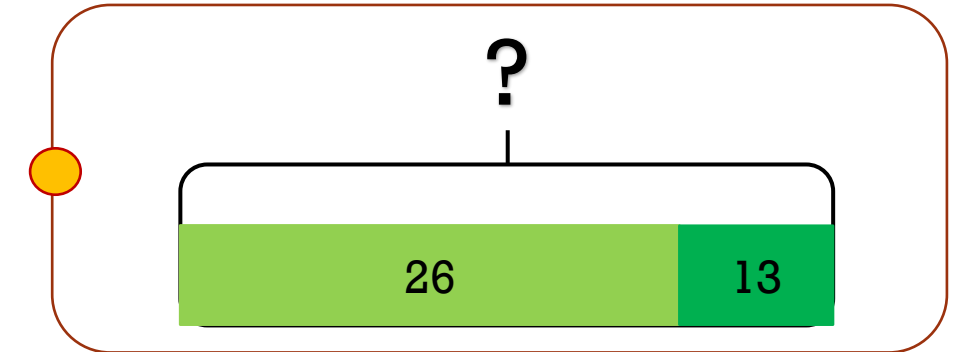
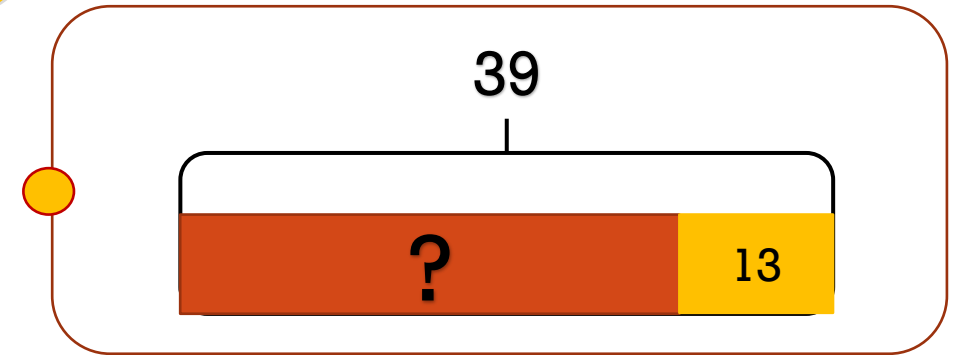
Tom a gagné 13 billes pendant la récréation.  
Maintenant, il a 39 billes.  
**Combien de billes a-t-il avant la récréation ?**

### Problème 3

Tom avait 26 billes.  
Il a gagné des billes pendant la récréation. Maintenant, il a 39 billes.  
**Combien de billes a-t-il après la récréation ?**

+ Mini-fichier  
problèmes  
15 à 17


Semaine 4



# SEMAINE 5

Maths au CE2 – Accès Editions

Période 1






+ un rectangle de papier pour représenter la planche de bois

Problème 1

7 fourmis sont cachées sous les planches.  
Combien y a-t-il de fourmis en tout ?



+ Mini-fichier  
problèmes  
18 à 21




+ un rectangle de papier pour représenter la planche de bois

Problème 2

Il y a 30 fourmis en tout.

Combien y a-t-il de fourmis cachées sous les planches ?



+ Mini-fichier  
problèmes  
18 à 21




+ un rectangle de papier pour représenter la planche de bois

Problème 3

Il y a 90 fourmis en tout.

Combien y a-t-il de fourmis cachées sous les planches ?




+ Mini-fichier  
problèmes  
18 à 21



+ un rectangle de papier pour représenter la planche de bois

Problème 4

Il y a 363 fourmis en tout.  
Combien y a-t-il de fourmis cachées sous les planches ?




+ Mini-fichier  
problèmes  
18 à 21



# SEMAINE 6

Maths au CE2 – Accès Editions

Période 1



Deux enfants rapportent à la maison tous les coquillages qu'ils ont ramassés. Anouk a ramassé 83 coquillages et Léo en a ramassé 24. Leur maman leur dit : « Bravo, vous avez ramassé 70 coquillages ! »

**Que remarquez-vous ?**



Modifie les nombres pour que cette histoire soit logique.

Deux enfants rapportent à la maison tous les coquillages qu'ils ont ramassés.

Anouk a ramassé ... coquillages et Léo en a ramassé ....

Leur maman leur dit : « Bravo, vous avez ramassé ..... coquillages ! »



Cherchons  
ensemble

Semaine 6

Ecris les nombres qui manquent pour que cette histoire soit logique.

Deux enfants rapportent à la maison tous les coquillages qu'ils ont ramassés.

Louise a ramassé ... coquillages et Tom en a ramassé ....

Leur maman leur dit : « Bravo, vous avez ramassé 120 coquillages ! »





Cherchons  
ensemble

Identifie **le tout** et **les parties** dans cette histoire.

Deux enfants rapportent à la maison tous les coquillages qu'ils ont ramassés.

Hugo a ramassé 16 coquillages et Fatou en a ramassé 40.

Leur maman leur dit : « Bravo, vous avez ramassé 56 coquillages ! »


+ Mini-fichier  
problèmes  
22 à 25



# SEMAINE 7

Maths au CE2 – Accès Editions

Période 1





Louise range 12 images de voitures, 6 images d'avions et des images de bateaux dans une enveloppe. Elle range en tout 30 images dans cette enveloppe.

Combien d'images de bateaux sont rangées dans l'enveloppe ?

+ Mini-fichier  
problèmes  
26 à 30

